








Considere el siguiente campo de desplazamiento sencillo:

$$u_1(x_1) = \epsilon_0 x_1$$

¿A qué nivel de deformación linealizada ϵ_0 es la discrepancia con la deformación no lineal mayor de un 10%?

-  0.22%
-  2.2%
-  22%
-  222%
-  No sabe, no entiende