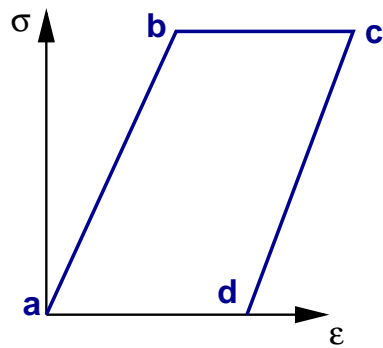




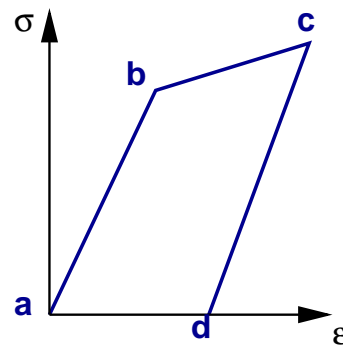
## Pregunta



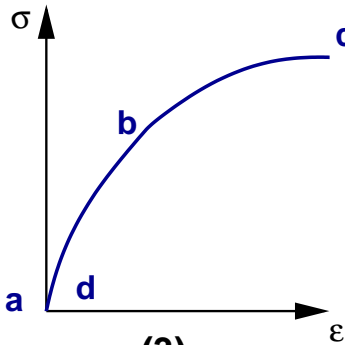
Las siguientes curvas de esfuerzo-deformación se obtuvieron para materiales diferentes sometiendo la muestra a la trayectoria de carga (a,b,c,d). ¿Cuál o cuáles de ellas corresponden a materiales elásticos?



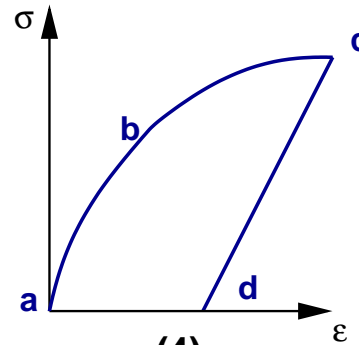
(1)








(2)



(3)



(4)

1.  (1) y (2)
2.  (3)
3.  (2) y (4)
4.  Ninguna de las anteriores
5.  No sabe, no entiende



Respuesta



La respuesta correcta a la pregunta es: 2.

