








Pregunta



El estado del esfuerzo en un punto queda completamente determinado cuando:

1. se especifican los vectores de esfuerzo en tres planos diferentes
2. se especifican los vectores de esfuerzo en dos planos diferentes
3. se especifican los vectores de esfuerzo en un plano arbitrario

-  Enunciado (1)
-  Enunciado (2)
-  Enunciado (3)
-  Ninguno de los enunciados anteriores
-  No sabe, no entiende



Respuesta



La respuesta correcta a la pregunta
es: 